
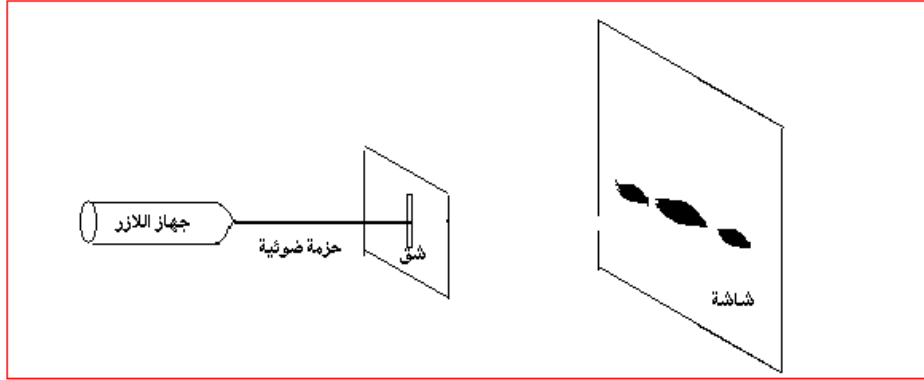


انتشار موجة ضوئية Propagation d'une onde lumineuse

I - إبراز التجريبي لظاهرة حيود الضوء

1 - تجربة

نجز التركيب التجريبي جانبه حيث :
- الحزمة الضوئية المنبعثة من جهاز الليزر تقع في وسط الورق الميليمتري .
- نضع صفيحة بها شق عرضه a على مسافة $D=1,77m$ من الشاشة ، فنشاهد على هذه الأخيرة الشكل أ .



الشكل ب



الشكل أ



- نعوض الصفيحة بأخرى شقها عرضه $a/2$ فتحصل على الشكل ب
- نحفظ بنفس المسافة $D=1,77m$ ونستعمل صفائح شقوقها مختلفة العرض a . نقيس بالنسبة لكل صفيحة العرض L للبقع المركزية المشاهدة على الشاشة .
ندون في جدول قيم كل من a و L . فنحصل على الجدول التالي :

$a(\mu m)$	380	250	110	90	50
$L(mm)$	5,5	8,5	2,0	2,5	3,0

استثمار

1 - قارن الشكلين المحصلين مع ما تم الحصول عليه في ظاهرة حيود موجات على سطح الماء

ظاهرة حيود الموجات الميكانيكية تحدث عندما تصادف هذه الأخيرة حاجز به فتحة عرضها قريب من طول الموجة الميكانيكية .

نفس الشيء بالنفس للضوء فعند وصوله إلى حاجز ذي فتحة عرضها a صغير جدا يتغير اتجاه انتشار الأشعة الضوئية .

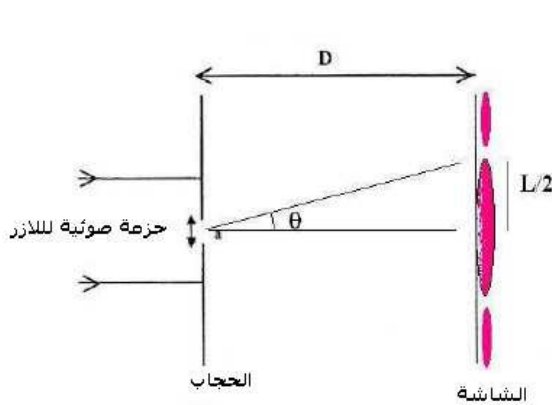
2 - ذكر بالمبدأ المستقيمي للضوء . هل يتحقق هذا المبدأ خلال هذه التجربة ؟
ينتشر الضوء في أوساط شفافة ومتجانسة وفق خطوط مستقيمة .

عند وصول الضوء إلى الحاجز ذي الفتحة يتغير اتجاه انتشاره وبالتالي فإن مبدأ انتشار الضوء لا يتحقق . لت هذه الأشعة الضوئية يمكنها أن تصل إلى أماكن توجد وراء الحاجز . نقول أن الضوء خضع لظاهرة الحيود
 عند حدوث هذه الظاهرة نحصل على عدة بقع ذات إضاءة قصوى وأخرى مظلمة بشكل متتابع ، وتقل شدة إضاءتها كلما ابتعدنا عن المركز ويتصرف هنا الشق كمنبع ضوئي وهمي .
 3 - ماذا يمكن استخلاصه فيما يخص طبيعة الضوء ؟
 مبدأ الإنتشار المستقيمي للضوء لا يمكن من تفسير وصول الضوء لأماكن توجد وراء الحاجز وبالمماثلة مع الموجات الميكانيكية نعتبر الضوء موجة .

خلاصة :
 كما هو الشأن بالنسبة لحيود موجة ميكانيكية مستقيمة على سطح الماء في حوض الموجات ، يتم حيود الضوء ، بواسطة فتحات صغيرة : ثقب أو شق رأسي أو سجاجat voilage والتي يمكن اعتبارها منابع ضوئية وهمية ، الشيء الذي يثبت الفرضية التالية :

إن الضوء عبارة عن موجات متوالية . ويسمى هذا المظهر الموجي للضوء .
 ولقد توصل العالم هويكنس Huygnes إلى هذه الفرضية في منتصف القرن السابع عشر الميلادي و ثم إثباتها تجريبيا في بداية القرن التاسع عشر الميلادي من طرف العالم يونغ Young

4 - تحديد طول الموجة لموجة ضوئية منبعثة من جهاز الليزر .
 - يرمز للفرق الزاوي بين وسط البقعة المركزية وأول بقعة مظلمة بالحرف θ .
 4 - 1 بالنسبة لفرق زاوي صغير ، يمكن كتابة العلاقة $\tan\theta = \theta$ ، حيث يعبر عن θ بالرديان .



أثبت العلاقة : $\theta = \frac{L}{2D}$

نعبر عن الفرق الزاوي θ بالرديان بين وسط الهذب المركزي وأول هذب مظلم

من خلال الشكل لدينا :

$$\tan \theta = \frac{\sin \theta}{\cos \theta} = \frac{L}{2D}$$

باعتبار أن θ صغيرة جدا فإن

$$\tan \theta \approx \theta = \frac{L}{2D}$$

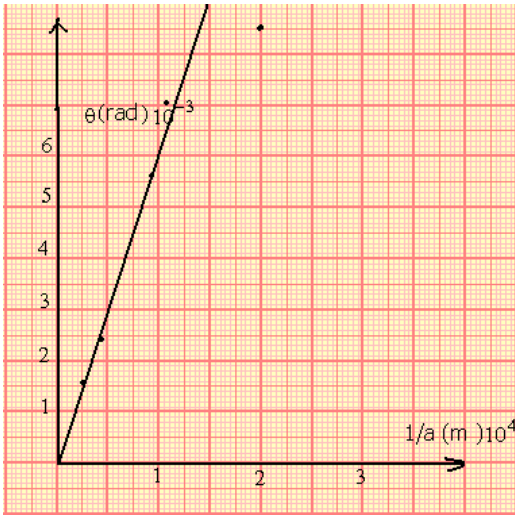
4 - 2 مثل المنحنى الممثل لتغيرات θ بدلالة $\frac{1}{a}$

a(μm)	380	250	110	90	50
L(m)	$5,5 \cdot 10^{-3}$	$8,5 \cdot 10^{-3}$	$2,0 \cdot 10^{-2}$	$2,5 \cdot 10^{-2}$	$3,0 \cdot 10^{-2}$
1/a(m ⁻¹)	$2,6 \cdot 10^3$	$4,0 \cdot 10^3$	$9,1 \cdot 10^3$	$1,1 \cdot 10^4$	$2,0 \cdot 10^4$
θ(rad)	$1,55 \cdot 10^{-3}$	$2,40 \cdot 10^{-3}$	$0,56 \cdot 10^{-2}$	$0,71 \cdot 10^{-2}$	$0,85 \cdot 10^{-2}$

التمثيل المبياني باختيار السلم التالي :

بالنسبة ل $1/a$ نختار : $1 \text{ cm} \leftrightarrow 0,5 \cdot 10^4 \text{ m}^{-1}$

بالنسبة ل θ نختار : $1 \text{ cm} \leftrightarrow 1 \cdot 10^{-3} \text{ rad}$



3 - 4 أستنتج العلاقة الرياضية بين θ و $(1/a)$. ما هو المدلول الفيزيائي للمعامل الموجه للمنحنى المحصل عليه ؟

$\theta = k \frac{1}{a}$ و من خلال التحليل البعدي لهذه العلاقة يتبين

أن الثابتة k تمثل طول الموجة لأن وحدتها في المعادلة

هي المتر . وبالتالي فالعلاقة بين θ و $(1/a)$ هي : $\theta = \frac{\lambda}{a}$

5 - ما تأثير عرض الشق a على العرض L للبقعة المركزية ؟

II - الموجات الضوئية

1 - انتشار الموجات الضوئية

الضوء الطبيعي المنبعث من الشمس ومن النجوم يصلنا بعد اجتيازه الفراغ الكوني أي أنه لا يحتاج لوسط مادي لانتشاره خلافا للموجات الميكانيكية .

تنتشر الموجات الضوئية في الفراغ .

في سنة 1821 نشر فرينل Fresnel فرصيته بالنسبة للاهتزازات الضوئية باعتبارها موجات مستعرضة أي أنها متعامدة مع اتجاه انتشارها . بحيث أن هذه الإشارة هي عبارة عن مجال كهربائي مقرون بمجال مغناطيسي لذا نسميها بالموجات الكهرمغناطيسية .

الموجات الضوئية موجات كهرمغناطيسية .

تنتشر في الفراغ بسرعة $c \approx 3.10^8 \text{ m/s}$.

سرعة انتشار الضوء في الفراغ هي ثابتة عالمية قيمتها $c = 299\ 792\ 458 \text{ m/s}$

في وسط مادي شفاف سرعة الضوء أصغر من سرعته في الفراغ . في الهواء

تقارب سرعته في الفراغ .

- تحمل الموجات الضوئية طاقة تسمى طاقة الإشعاع .

2 - العلاقة بين طول الموجة الضوئية والتردد

تتميز موجة ضوئية أحادية اللون بتردد ν ، نعبّر عنه بالهرتز (Hz) أو بالدور $T = \frac{1}{\nu}$ نعبّر عنها

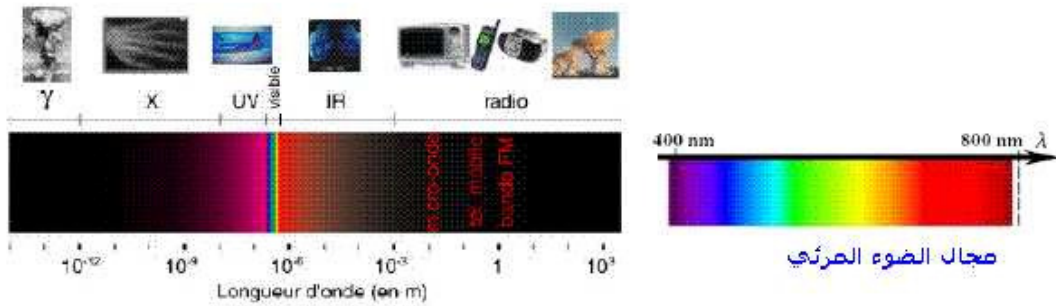
بالثانية s .

- تردد موجة ضوئية هي نفسها في جميع الأوساط الشفافة .
- طول الموجة λ في الفراغ يمثل الدورية المكانية و T تعبر عن الدورية الزمنية . هذان المقدران مرتبطان بالعلاقة التالية :

$$\lambda = c.T$$


نعبّر عن λ بالمتر (m) و عن c ب (m/s) و ν ب الثانية (s) .

يبين الجدول التالي مجال الترددات وطول الموجة للموجات الضوئية في الفراغ :



Domaine de différentes radiations en fonction de leurs longueurs d'onde

مجال مختلف الإشعاعات ببدلالة طول الموجات



III - تبعد الضوء La dispersion de la lumière

3 - 1 سرعة الانتشار ومعامل الانكسار n

تعريف : معامل انكسار وسط شفاف هو النسبة بين سرعة الانتشار c للضوء في الفراغ وسرعة انتشاره v في هذا الوسط الشفاف .

$$n = \frac{c}{v}$$

معامل الانكسار ليست له وحدة .

في الهواء كل الإشعاعات تنتشر بسرعة v تقارب c وبالتالي فمعامل انكسار الهواء يقارب 1 : $n_{\text{air}} = 1,00$

في الماء ، تساوي سرعة الضوء تقريبا $2,3 \cdot 10^8 \text{ m/s}$ أي أن معامل الانكسار الماء هو : $n_{\text{eau}} = 1,3$

3 - 2 معامل الانكسار وطول الموجة

طول الموجة λ لإشعاع تردد v هو : $\lambda_{\text{vide}} = c \cdot T = \frac{c}{v}$

في وسط شفاف مبدد معامل انكساره $n = \frac{c}{v}$ ، الإشعاع ذي التردد v طول موجته λ نعب عنها بالعلاقة التالية :

$$\lambda = v \cdot T = \frac{c}{n \cdot v}$$

$$\lambda = \frac{\lambda_{\text{vide}}}{n} \Rightarrow n = \frac{\lambda_{\text{vide}}}{\lambda}$$

3 - 3 تبعد الضوء بواسطة موشور

تعريف بالموشور :

الموشور وسط شفاف محدود بوجهين مستويين غير متوازيين ، يتقاطعان حسب مستقيم يسمى حرف الموشور

- مستوى المقطع الرأسي هو المستوى المتعامد مع الحرف
- قاعدة الموشور هي الوجه المقابل للحرف

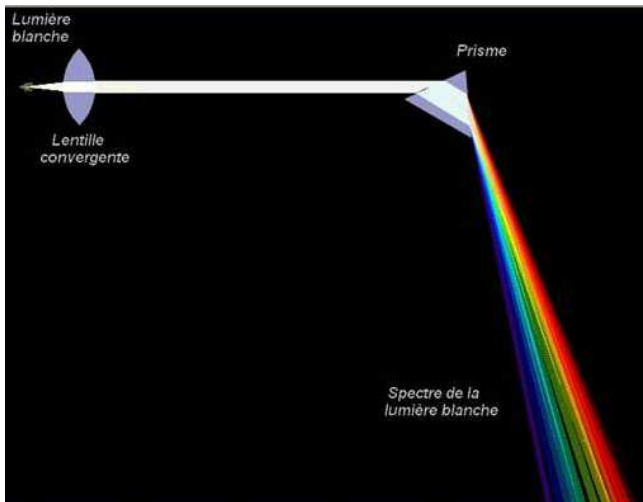
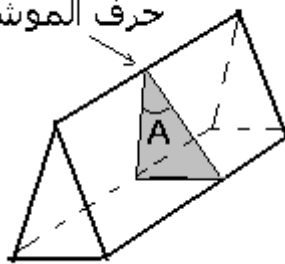
- زاوية الموشور هي الزاوية A المقابلة للقاعدة .

تجربة : تحليل الضوء الأبيض أنظر هذا الرابط بالانترنت

<http://www.up.univ-mrs.fr/~laugierj/CabriJava/0pjava60.html>

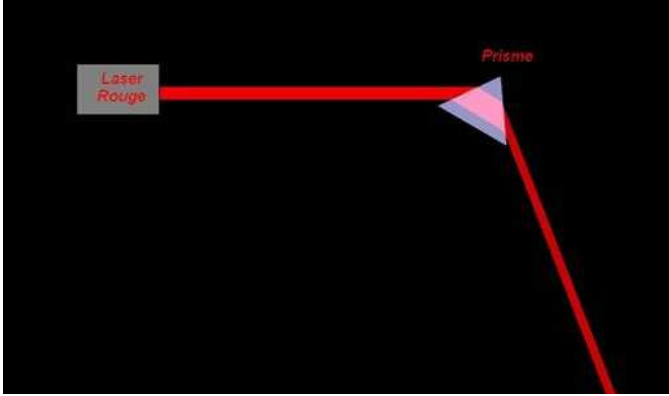
نضع أمام منبع ضوئي (S) ، حجابا به شق رقيق جدا ونحقق بواسطة عدسة رقيقة مجمعة ،

حرف الموشور



على شاشة E ، صورة الشق ، ثم نضع بين العدسة والشاشة ، موشورا من زجاج شفاف .
ملاحظات :

- انحراف الحزمة الضوئية بسبب وجود الموشور نتيجة تعرضها لظاهرة الانكسار مرتين : الأولى عند دخولها الموشور والثانية عند خروجها منه .
- نلاحظ على الشاشة E بقعة ضوئية ملونة وهذه الألوان مشابهة لألوان قوس قزح ، تسمى هذه البقعة الضوئية الملونة بـ **طيف الضوء الأبيض**
- عند استعمال ضوء أحادي اللون (الأحمر) نلاحظ على الشاشة طيف ضوئي يضم حزمة واحدة
- يعطي الضوء الأبيض طيف ضوئي مستمر
- الزجاج وسط مبدد للضوء حيث معامل الانكسار يتعلق بتردد الاشعاعات الضوئية



التحليل

أ - انحراف الضوء الأحادي اللون :

يرد شعاع ضوئي أحادي اللون ينتمي إلى المقطع الرأسي على وجه الموشور .

1 - ما هي الظاهرة التي تحدث عند دخوله الموشور ، ثم عند خروجه منه ؟

- تحدث ظاهرة الانكسار مرتين : عند دخوله في النقطة I ، ثم عند خروجه في النقطة I' .

2 - حدد على الشكل زاوية الانحراف D بين الشعاع الوارد على الموشور والشعاع المنبعث

عند خروجه I'R منه : $D = (\overline{SI}, \overline{I'R})$

- الشعاعان SI و I'R ليس لهما نفس الاتجاه وبالتالي فغن الموشور قد غير اتجاه الضوء الأحادي اللون / تسمى هذه الظاهرة انحراف الضوء بواسطة موشور .
تعريف : زاوية الانحراف D هي الزاوية التي يكونها اتجاه الشعاع الوارد SI مع اتجاه

الشعاع المنبعث I'R أي $D = (\overline{SI}, \overline{I'R})$

3 - أوجد هندسيا وتطبيق قوانين ديكارت للانكسار صيغ الموشور .

حسب قوانين ديكارت للإنكسار لدينا :

$$\sin i = n \sin r$$

$$n \sin r' = \sin i'$$

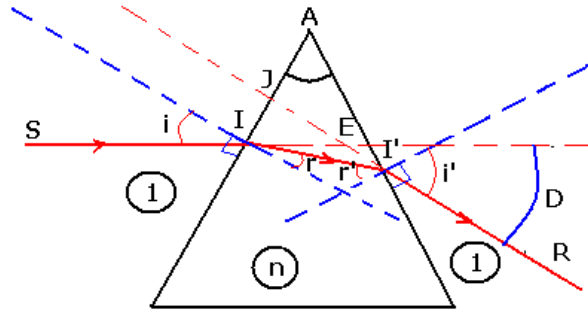
هندسيا لدينا : حسب المثلث AII'

$$\widehat{A} + \left(\frac{\pi}{2} - r\right) + \left(\frac{\pi}{2} - r'\right) = \pi \Rightarrow \widehat{A} = r + r'$$

نأخذ زاويا المثلث AJI' و IJE

$$\widehat{A} + \left(\frac{\pi}{2} - i'\right) + \left(\pi - \frac{\pi}{2} - i + D\right) = \pi \Rightarrow \widehat{A} - i' - i + D = 0$$

$$D = i + i' - \widehat{A}$$



أنظر الربط بالأنترنت التالي :

<http://perso.orange.fr/guy.chaumeton/animations/2dprisme1.htm>

3 _ 4 ظاهرة تبعد الضوء

نرسل حزمة رقيقة من الضوء الأبيض على موشور كما هو ممثل في الشكل ونعتبر العلاقة :

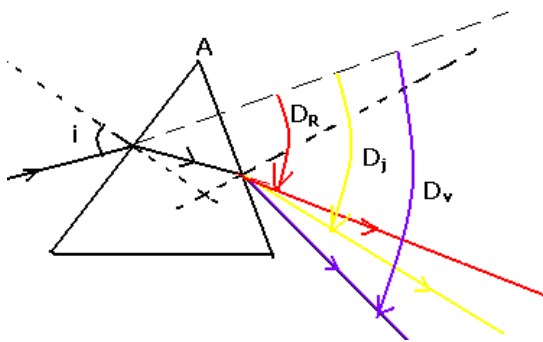
$$D = i + i' - A$$

نلاحظ :

بالنسبة للإشعاعات التي تكون الضوء الأبيض أن كلا من الزاويتين i و A لهما نفس القيمة ، بينما قيمتا الزاويتين i' و D مرتبطتان بقيمة معامل الانكسار n أي طول موجة الإشعاع أي لون هذا الأخير .

$$\sin i = n \sin r$$

$$n \sin r' = \sin i'$$



مما يبين أن معامل انكسار زجاج الموشور يتعلق بتردد الموجات الضوئية وبما أن $n = \frac{C}{V}$

فإن سرعة انتشار الموجات تتعلق كذلك بتردد الموجات وهذا يبين أن زجاج الموشور مبدد للضوء

بالنسبة لمنحى الانحراف D ، فإنه يكبر من اللون الأحمر إلى اللون البنفسجي أي الضوء الأحمر أقل انحرافاً بينما الضوء البنفسجي أكثر انحرافاً . $D_V > D_J > D_R$

خلاصة :

يتعلق معامل انكسار وسط شفاف بتردد الإشعاعات الضوئية ، وهذا ما يسبب ظاهرة تبعد الضوء ملحوظة :

تتميز الموجة الضوئية بطول موجتها لكون أن طول الموجة يتغير عندما تنتقل من وسط إلى آخر $n = \frac{\lambda_0}{\lambda}$ (طول الموجة الضوئية يتعلق بمعامل الانكسار) بينما ، التردد يبقى هو نفسه . فالذي

يتغير من وسط إلى آخر هو سرعة انتشار الضوء

$$\frac{\sin i_1}{\sin i_2} = \frac{n_2}{n_1} = \frac{V_1}{V_2} = \frac{\lambda_1}{\lambda_2}$$

حسب قانون ديكارت للانكسار